

Deutsche Lebens-Rettungs-Gesellschaft

Landesverband Rheinland-Pfalz e.V.

Bergstraße 18

56332 Lehmen

<https://rheinland-pfalz.dlrg.de>



Deutsche Lebens-Rettungs-
Gesellschaft e.V.

Lösungsbogen DLRG-Bootsführerschein A (Amtlicher Teil)

Bearbeitungszeit max. 45 Minuten.

Bei jeder Frage ist nur eine Antwortmöglichkeit richtig!

Anzahl Fragen: **30 (davon müssen 23 richtig beantwortet sein)**

111 Welche Bedeutung haben die nachstehenden Tafelzeichen?



- Empfohlene Durchfahrtsöffnung, Durchfahrt in beide Richtungen erlaubt.
- Empfohlene Durchfahrt, Durchfahrt in Gegenrichtung verboten.
- Die Durchfahrt ist nur durch diese Brückenöffnung und nur in eine Richtung gestattet.
- Die Durchfahrt ist nur durch diese Brückenöffnung und in beide Richtungen gestattet.

235 Welche Stellen sind für die Zuteilung eines amtlich anerkannten Kennzeichens für Sportboote zuständig?

- Die Wasserstraßen- und Schifffahrtsämter.
- Amtsgerichte, bei denen ein Schiffsregister geführt wird.
- Der Deutsche Motoryachtverband, der Deutsche Seglerverband, der Allgemeine Deutsche Automobilclub.
- Die Wasserschutzpolizei.

27 Welche Bedeutung hat folgendes Tafelzeichen?



- Verbot der Durchfahrt, jedoch für Kleinfahrzeuge ohne Antriebsmaschine befahrbar.
- Verbot der Durchfahrt und Sperrung für Kleinfahrzeuge.
- Verbot der Durchfahrt und Sperrung der Schifffahrt.
- Verbot der Durchfahrt, jedoch für Kleinfahrzeuge ohne laufende Antriebsmaschine befahrbar.

98 Welche Zeichen begrenzen die Fahrrinne zum linken Ufer?

- Rote Spierentonnen oder Schwimmstangen.
- Grüne Spitztonnen oder Schwimmstangen.
- Grüne Spierentonnen oder Schwimmstangen.
- Rote Stumpftonnen oder Schwimmstangen.

176 Wie müssen Ausweichmanöver durchgeführt werden?

- Rechtzeitig, klar erkennbar und vorsichtig.
- Rechtzeitig, klar erkennbar und nach Backbord.
- Rechtzeitig, klar erkennbar und nach Steuerbord.
- Rechtzeitig, klar erkennbar und entschlossen.

229 Welcher Befähigungsnachweis berechtigt zum Führen eines Sportbootes mit einer Länge von 20 m bis 25 m auf den Binnenschifffahrtsstraßen außerhalb des Rheins?

- Der Sportbootführerschein mit dem Geltungsbereich Binnenschifffahrtsstraßen zum Führen von Sportbooten mit Antriebsmaschine oder das Sportpatent.
- Das Sportschifferzeugnis oder das Sportpatent.
- Der Sportbootführerschein mit dem Geltungsbereich Binnenschifffahrtsstraßen.
- Der Sportbootführerschein mit dem Geltungsbereich Seeschifffahrtstraßen.

115 Was bedeuten diese Tafelzeichen an Brücken?

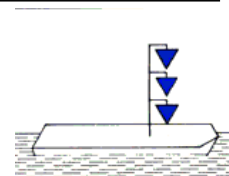


- Empfohlene Durchfahrt in beide Richtungen.
- Durchfahrt nur außerhalb der beiden Tafeln erlaubt.
- Empfohlene Durchfahrt ohne Gegenverkehr.
- Empfohlene Durchfahrt mit Gegenverkehr.

37 Welche Gefahren können entstehen, wenn ein kleines von einem größeren Fahrzeug überholt wird?

- Das größere Fahrzeug kann durch Wellenbildung aus dem Kurs laufen und kollidieren oder querschlagen, in flachen Gewässern auf Grund laufen.
- Das größere Fahrzeug kann durch Stau, Sog oder Schwell aus dem Kurs laufen und kollidieren oder querschlagen, in flachen Gewässern auf Grund laufen.
- Das kleinere Fahrzeug kann durch Stau, Sog oder Schwell aus dem Kurs laufen und kollidieren oder kentern, in flachen Gewässern extrem versetzt werden.
- Das kleinere Fahrzeug kann durch Stau, Sog oder Schwell aus dem Kurs laufen und kollidieren oder querschlagen, in flachen Gewässern auf Grund laufen.

131 Was bedeutet dieses Sichtzeichen?



- Fahrzeug der Überwachungsbehörden im Einsatz.
- Fahrzeug hat explosive Stoffe geladen, Abstand beim Stillliegen 100 m.
- Fahrzeug hat brennbare Stoffe geladen, Abstand beim Stillliegen 10 m.
- Fahrzeug hat gesundheitsschädliche Stoffe geladen, Abstand beim Stillliegen 50 m

84 Wo findet man die allgemeinen Verkehrsregeln für die Binnenschiffahrtsstraßen und den Rhein?

- Wassermotorräderverordnung, Wasserskiverordnung.
- Moselschiffahrtspolizeiverordnung, Donauschiffahrtspolizeiverordnung.
- Binnenschiffahrtsstraßen-Ordnung, Rheinschiffahrtspolizeiverordnung.
- Binnenschiffsuntersuchungs-Ordnung, Rheinschiffahrtspolizeiverordnung.

157 Was bedeutet dieses Tafelzeichen?



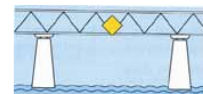
- Fahrverbot für Kleinfahrzeuge ohne laufende Antriebsmaschine.
- Fahrverbot für Kleinfahrzeuge mit Maschinenantrieb.
- Fahrverbot für Fahrzeuge ohne Antriebsmaschine.
- Fahrverbot für Fahrzeuge mit Maschinenantrieb.

68 Welcher Feuerlöscher ist für Sportboote zweckmäßig und wie oft muss man einen Feuerlöscher überprüfen lassen?

- CO2-Feuerlöscher, mindestens alle zwei Jahre.
- ABC-Pulver-und Schaumlöscher, mindestens alle 2 Jahre.
- ABC-Pulverlöscher, mindestens einmal pro Jahr.
- Feuerlöscher mit Löschschaum, mindestens einmal pro Jahr.

- 63 **Warum sind die Flüssiggase Propan und Butan an Bord besonders gefährlich?**
- Beide Gase sind leichter als Luft und bilden mit Luft ein explosives Gemisch.
 - Beide Gase sind schwerer als Wasser und bilden mit Wasser ein explosives Gemisch.
 - Beide Gase sind schwerer als Luft und bilden mit Luft ein explosives Gemisch.
 - Beide Gase sind schwerer als Luft und bilden mit Wasser ein explosives Gemisch.

- 110 **Welche Bedeutung hat das nachstehende Tafelzeichen?**



- Die Durchfahrt ist nur durch diese Brückenöffnung und nur in eine Richtung gestattet.
- Die Durchfahrt ist nur durch diese Brückenöffnung und in beide Richtungen gestattet.
- Empfohlene Durchfahrtsöffnung, Durchfahrt in beide Richtungen erlaubt.
- Empfohlene Durchfahrt, Durchfahrt in Gegenrichtung verboten.

- 166 **Was bedeutet dieses Schallsignal? (- - - •)**

- Überholen an der Steuerbordseite des Vorausfahrenden.
- Hafen oder Nebenwasserstraße; Ein-oder Ausfahrt mit Kursänderung nach Steuerbord.
- Überholen an der Backbordseite des Vorausfahrenden.
- Hafen oder Nebenwasserstraße; Ein-oder Ausfahrt mit Kursänderung nach Backbord.

- 34 **Warum soll ein kleines Fahrzeug nicht dicht an ein großes in Fahrt befindliches Fahrzeug heranfahren?**

- Es kann durch dessen Bug-oder Heckwelle kentern oder durch den Sog mit dem Fahrzeug kollidieren.
- Dichtes Heranfahren ist ein Verstoß gegen die Grundregeln für das Verhalten im Verkehr.
- Da es dem großen in Fahrt befindlichen Fahrzeug sonst nicht ausweichen kann.
- Es kann durch dessen Bug-oder Heckwelle Seeschlag erleiden.

- 158 **Wie ist eine geschützte Badezone gekennzeichnet?**

- Durch rote Tonnen.
- Durch grüne Tonnen.
- Durch rot-grün gestreifte Tonnen.
- Durch gelbe Tonnen.

- 76 **Was beinhaltet die allgemeine Sorgfaltspflicht?**

- Vermeidung der Gefährdung von Menschenleben, von Beschädigungen an Fahrzeugen, Anlagen oder Ufern, Behinderung der Schifffahrt und Beeinträchtigung der Umwelt.
- Es ist alles zu tun, was zur Vermeidung von Beschädigungen an Fahrzeugen, Anlagen oder Ufern, Behinderung der Schifffahrt und Beeinträchtigung der Umwelt nötig ist.
- Gefährdung von Menschenleben, Beschädigungen an Fahrzeugen, Anlagen oder Ufern und Beeinträchtigung der Umwelt.
- Es ist alles zu tun, was zur Vermeidung der Gefährdung von Menschenleben, Behinderung der Schifffahrt und Beeinträchtigung der Umwelt nötig ist.

- 218 **Welche Fahrinnenseite hat ein Talfahrer an seiner Backbordseite?**
- Die linke Fahrinnenseite, gekennzeichnet durch grüne Spitztonnen oder Schwimmstangen.
 - Die rechte Fahrinnenseite, gekennzeichnet durch grüne Spitztonnen oder Schwimmstangen.
 - Die rechte Fahrinnenseite, gekennzeichnet durch rote Stumpftonnen oder Schwimmstangen.
 - Die linke Fahrinnenseite, gekennzeichnet durch rote Stumpftonnen oder Schwimmstangen.

- 133 **Ein Kleinfahrzeug unter Segel fährt nachts auf einer Binnenschiffahrtsstraße und führt ein weißes Rundumlicht im Topp. Wie wird zweckmäßigerweise die weiße Handlampe, die bei Annäherung anderer Fahrzeuge gezeigt werden muss, benutzt?**
- Die eigenen Segel anleuchten.
 - Das Wasser anleuchten.
 - Das heranfahrende Fahrzeug anleuchten.
 - Die Handlampe nach oben halten.

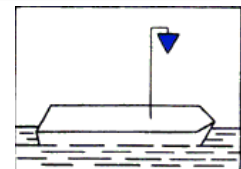
- 141 **Wie muss sich ein Fahrzeug mit Topplicht und Seitenlichtern gegenüber einem Kleinfahrzeug mit Seitenlichtern, welches sich auf Kollisionskurs befindet, verhalten?**
- Es wechselt den Kurs nach steuerbord und reduziert die Geschwindigkeit.
 - Es hält Kurs und reduziert die Geschwindigkeit.
 - Es muss ausweichen.
 - Es hält Kurs und Geschwindigkeit bei.

- 193 **Ein Kleinfahrzeug unter Segel kreuzt nachts das Fahrwasser. An Backbord tauchen die nachstehenden Lichter eines Fahrzeugs auf, das in spitzem Winkel den Kurs des Kleinfahrzeugs unter Segel kreuzen will. Wer ist ausweichpflichtig?**



- Beide sind ausweichpflichtig.
- Kleinfahrzeug, welches das Andere auf der Backbordseite hat.
- Kleinfahrzeug unter Segel.
- Kleinfahrzeug mit Maschinenantrieb.

- 127 **Was bedeutet dieses Sichtzeichen?**



- Fahrzeug hat explosive Stoffe geladen, Abstand beim Stillliegen 100 m.
- Fahrzeug der Überwachungsbehörden im Einsatz.
- Fahrzeug hat brennbare Stoffe geladen, Abstand beim Stillliegen 10 m.
- Fahrzeug hat gesundheitsschädliche Stoffe geladen, Abstand beim Stillliegen 50 m.

- 57 **Ein Außenborder mit gefülltem Tank bleibt während der Fahrt stehen. Was könnten die Ursachen sein?**

- Belüftungsschraube geschlossen; verstopfte Kraftstoffleitung.
- Ansaugdüsen zu groß bzw. zu klein.
- Schraube an der Welle lose.
- Tankdeckel ist offen.

194 Ein Kleinfahrzeug unter Segel und mit Maschinenantrieb kreuzt nachts stromauf. Ein Fahrzeug kommt entgegen, das nur ein weißes Licht führt. Was bedeutet dieses Licht?

- Kleinfahrzeug unter Segel.
- Kleinfahrzeug ohne Maschinenantrieb.
- Kleinfahrzeug unter Segel mit Maschinenantrieb.
- Kleinfahrzeug mit Maschinenantrieb.

204 Was bedeutet dieses Tafelzeichen?



- Sicherheitstor.
- Wehr.
- Hubbrücke.
- Schleuse.

38 Wie viel Ankerkette bzw. -leine soll man unter günstigen Verhältnissen beim Ankern an einem geschützten Ankerplatz ausstecken?

- Mindestens die dreifache Wassertiefe bei Kette oder die fünffache bei Leine.
- Mindestens die dreifache Wassertiefe bei Kette oder die vierfache bei Leine.
- Mindestens die vierfache Wassertiefe bei Kette oder die fünffache bei Leine.
- Mindestens die fünffache Wassertiefe bei Kette oder die dreifache bei Leine.

124 Was bedeuten diese Lichter?

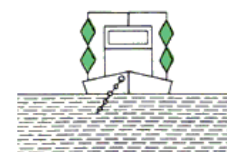


- Schubverband von achtern.
- Schubverband von Steuerbordseite.
- Nicht frei fahrende Fähre.
- Frei fahrende Fähre.

230 Wo sind umfangreiche Hinweise auf die Binnenschiffahrtsstraßen und deren Grenzen zu finden?

- In der Kleinfahrzeugkennzeichenverordnung.
- Im Teil I der Binnenschiffahrtsstraßen-Ordnung.
- In der Binnenschiffsuntersuchungsordnung.
- Im Teil II der Binnenschiffahrtsstraßen-Ordnung.

153 Was bedeuten diese Sichtzeichen?



- Festgefahreneres oder gesunkenes Fahrzeug. Vorbeifahrt nicht gestattet.
- Schwimmendes Gerät bei der Arbeit. Vorbeifahrt an jeder Seite gestattet.
- Schwimmendes Gerät bei der Arbeit. Vorbeifahrt nicht gestattet.
- Festgefahreneres oder gesunkenes Fahrzeug. Vorbeifahrt an der Steuerbordseite gestattet.

Lösungsbogen für DLRG-Bootsführerschein A (Amtlicher Teil)

111

235

27

98

176

229

115

37

131

84

157

68

63

110

166

34

158

76

218

133

141

193

127

57

194

204

38

124

230

153