

Deutsche Lebens-Rettungs-Gesellschaft

Landesverband Rheinland-Pfalz e.V.

Bergstraße 18

56332 Lehmen

<https://rheinland-pfalz.dlrg.de>



Deutsche Lebens-Rettungs-
Gesellschaft e.V.

Lösungsbogen DLRG-Bootsführerschein A (Amtlicher Teil)

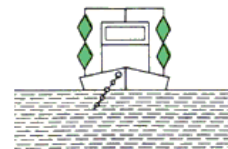
Bearbeitungszeit max. 45 Minuten.

Bei jeder Frage ist nur eine Antwortmöglichkeit richtig!

Anzahl Fragen: **30 (davon müssen 23 richtig beantwortet sein)**

- 36 **Wie verhält man sich beim Begegnen mit anderen Fahrzeugen in einem engen Fahrwasser?**
- Geschwindigkeit erhöhen, um das Begegnungsmanöver zügig durchzuführen.
 - Geschwindigkeit herabsetzen und ausreichenden Passierabstand halten.
 - Das mit dem Strom fahrende Fahrzeug hat aufzustoppen.
 - Das gegen den Strom fahrende Fahrzeug ist ausweichpflichtig.

- 153 **Was bedeuten diese Sichtzeichen?**



- Festgefahrener oder gesunkenes Fahrzeug. Vorbeifahrt nicht gestattet.
- Schwimmendes Gerät bei der Arbeit. Vorbeifahrt an jeder Seite gestattet.
- Festgefahrener oder gesunkenes Fahrzeug. Vorbeifahrt an der Steuerbordseite gestattet.
- Schwimmendes Gerät bei der Arbeit. Vorbeifahrt nicht gestattet.

- 172 **Ein Sportfahrzeug fährt hinter einem Fahrzeug, das nicht Kleinfahrzeug ist, in den Schleusenvorhafen ein. Aus der Schleusenkammer kommt ein Fahrzeug, das an Steuerbord eine blaue Tafel mit einem weißen Funkellicht zeigt. Was bedeutet dieses Zeichen?**

- Das aus- und die einfahrenden Fahrzeuge passieren sich an der Steuerbordseite, das Kleinfahrzeug ist nur zu erhöhter Aufmerksamkeit verpflichtet.
- Das aus- und die einfahrenden Fahrzeuge passieren sich an der Steuerbordseite, das Kleinfahrzeug ist wartepflichtig.
- Das aus- und die einfahrenden Fahrzeuge passieren sich an der Backbordseite, das Kleinfahrzeug ist nur zu erhöhter Aufmerksamkeit verpflichtet.
- Das aus- und die einfahrenden Fahrzeuge passieren sich an der Backbordseite, das Kleinfahrzeug hat Vorrang.

- 117 **Welche Bedeutung haben vor einer Schleuse ein rotes oder ein rotes und ein grünes Licht?**

- Ausfahrt verboten, schließen der Schleuse wird vorbereitet.
- Einfahrt verboten, Öffnen der Schleuse wird vorbereitet.
- Ausfahrt verboten, Öffnen der Schleuse wird vorbereitet.
- Einfahrt verboten, schließen der Schleuse wird vorbereitet.

- 182 **Von Backbord kommend kreuzt ein Fahrzeug unter Segel mit einem schwarzen Kegel, Spitze nach unten, den Kurs eines Fahrzeuges mit Maschinenantrieb. Wer ist ausweichpflichtig?**

- Das Fahrzeug unter Segel mit einem schwarzen Kegel ist ausweichpflichtig.
- Das Fahrzeug ohne Segel ist ausweichpflichtig.
- Das Fahrzeug unter Segel mit einem schwarzen Kegel ist nicht ausweichpflichtig.
- Beide Fahrzeuge sind ausweichpflichtig.

- 208 **Welchen Vorteil bietet ein Radarreflektor auf einem Sportboot?**

- Bessere Erkennbarkeit des Sportbootes bei unsichtigem Wetter.
- Bessere Erkennbarkeit des Sportbootes bei Nacht.
- Bessere Erkennbarkeit des Sportbootes auf Radarbildschirmen.
- Bessere Erkennbarkeit des Sportbootes bei Taglicht.

167 **Was bedeutet dieses Schallsignal? (- - - ••)**

- Hafen oder Nebenwasserstraße; Ein-oder Ausfahrt mit Kursänderung nach Backbord.
 - Überholen an der Steuerbordseite des Vorausfahrenden.
 - Überholen an der Backbordseite des Vorausfahrenden.
 - Hafen oder Nebenwasserstraße; Ein-oder Ausfahrt mit Kursänderung nach Steuerbord.
-

249 **Welche Bedeutung hat die Bezeichnung eines Fahrzeuges mit einer rot-weißen Flagge und was ist zu beachten?**

- Schutzbedürftiges Fahrzeug, Geschwindigkeit beibehalten und Sog und Wellenschlag vermeiden.
 - Schutzbedürftiges Fahrzeug, Sog und Wellenschlag vermeiden.
 - Schutzbedürftiges Fahrzeug, Geschwindigkeit vermindern und Sog und Wellenschlag vermeiden.
 - Schutzbedürftiges Fahrzeug, Geschwindigkeit vermindern.
-

107 **Was bedeutet dieses Tafelzeichen?**



- Liegestelle für Fahrzeuge mit brennbaren Stoffen, für Kleinfahrzeuge verboten.
 - Liegestelle für alle Fahrzeuge, für Kleinfahrzeuge verboten.
 - Liegestelle für Fahrzeuge mit explosiven Stoffen, für Kleinfahrzeuge verboten.
 - Liegestelle für Fahrzeuge mit gesundheitsgefährdeten Stoffen, für Kleinfahrzeuge verboten.
-

160 **Was bedeuten vier kurze Töne?**

- Überholen nicht möglich.
 - Fahrzeug ist manövrierunfähig.
 - Maschine geht rückwärts.
 - Achtung!
-

178 **Welche Fahrzeuge in Fahrt führen nachts nur ein weißes Rundum-licht?**

- Kleinfahrzeuge mit Maschinenantrieb unter 20 m Länge.
 - Kleinfahrzeuge mit Maschinenantrieb und geschleppte Fahrzeuge.
 - Geschleppte oder längsseits gekuppelte Kleinfahrzeuge.
 - Fahrzeuge die geschoben werden.
-

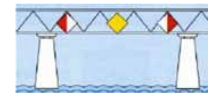
204 **Was bedeutet dieses Tafelzeichen?**



- Sicherheitstor.
- Schleuse.
- Hubbrücke.
- Wehr.

- 207 **Was ist zu beachten, wenn während der Fahrt unsichtiges Wetter eintritt?**
- Auf allen Wasserstraßen ist ohne Radar und ECDIS die Fahrt unverzüglich einzustellen.
 - Auf allen Wasserstraßen ist ohne Radar und Sprechfunk die Fahrt unverzüglich einzustellen.
 - Auf bestimmten Wasserstraßen ist ohne Radar und Sprechfunk die Fahrt unverzüglich einzustellen.
 - Auf bestimmten Wasserstraßen ist ohne Radar und AIS die Fahrt unverzüglich einzustellen.

- 243 **Welche Bedeutung haben diese Tafeln an der nachstehenden gekennzeichneten Brücke?**



- Vorgeschriebene Durchfahrt mit Gegenverkehr und seitlicher Begrenzung der erlaubten Brückendurchfahrt.
- Empfohlene Durchfahrt mit Gegenverkehr und seitlicher Begrenzung der erlaubten Brückendurchfahrt.
- Empfohlene Durchfahrt mit Gegenverkehr ohne seitliche Begrenzung der erlaubten Brückendurchfahrt.
- Empfohlene Durchfahrt ohne Gegenverkehr und seitlicher Begrenzung der erlaubten Brückendurchfahrt.

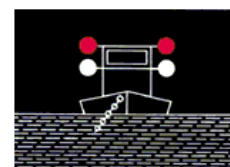
- 166 **Was bedeutet dieses Schallsignal? (- - - •)**

- Überholen an der Steuerbordseite des Vorausfahrenden.
- Hafen oder Nebenwasserstraße; Ein-oder Ausfahrt mit Kursänderung nach Steuerbord.
- Überholen an der Backbordseite des Vorausfahrenden.
- Hafen oder Nebenwasserstraße; Ein-oder Ausfahrt mit Kursänderung nach Backbord.

- 55 **Die Ölkontrollleuchte leuchtet nach dem Starten weiter. Was könnte die mögliche Ursache sein?**

- Zu viel Motoröl im Motor.
- Druckschalter bzw. Öldruckpumpe defekt.
- Zu hohe Motordrehzahl.
- FI-Schalter defekt.

- 145 **Was bedeuten diese Lichter?**



- Festgefahrenes oder gesunkenes Fahrzeug. Vorbeifahrt an der Steuerbordseite gestattet. Sog und Wellenschlag vermeiden.
- Schwimmendes Gerät bei der Arbeit. Vorbeifahrt an jeder Seite gestattet. Sog und Wellenschlag vermeiden
- Festgefahrenes oder gesunkenes Fahrzeug. Vorbeifahrt nicht gestattet.
- Schwimmendes Gerät bei der Arbeit. Vorbeifahrt nicht gestattet.

- 123 **Was bedeuten diese Lichter?**



- Schubverband in Fahrt von achtern.
- Schubverband vor Anker liegend.
- Schubverband unter 110 m Länge.
- Schubverband in Fahrt von vorne.

3 Wann ist ein Fahrzeug in Fahrt?

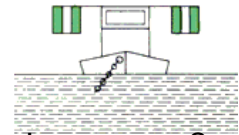
- Wenn es weder vor Anker liegt noch an Land festgemacht ist noch auf Grund sitzt.
- Wenn es weder vor Anker liegt noch an Land festgemacht ist noch Fahrt über Grund macht.
- Wenn es weder an Land festgemacht ist noch vor Anker liegt noch Fahrt durchs Wasser macht.
- Wenn es weder auf Grund sitzt noch vor Anker liegt noch manövrierbehindert oder manövrierunfähig ist.

244 Was bedeutet dieses Tafelzeichen an einer Brückendurchfahrt?



- Schutzbedürftige Anlage.
- Verbot der Durchfahrt und Sperrung der Schifffahrt.
- Gesperrte Durchfahrt, jedoch für Kleinfahrzeuge mit Antriebsmaschine befahrbar.
- Gesperrte Durchfahrt, jedoch für Kleinfahrzeuge ohne Antriebsmaschine befahrbar.

154 Was bedeuten diese Sichtzeichen?

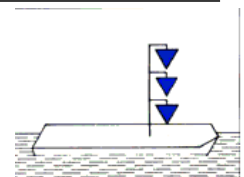


- Festgefahrener oder gesunkenes Fahrzeug. Vorbeifahrt an der Steuerbordseite gestattet. Sog und Wellenschlag vermeiden.
- Schwimmendes Gerät bei der Arbeit. Vorbeifahrt an jeder Seite gestattet.
- Schwimmendes Gerät bei der Arbeit. Vorbeifahrt nicht gestattet.
- Festgefahrener oder gesunkenes Fahrzeug. Vorbeifahrt nicht gestattet.

15 Zwei Motorboote nähern sich auf kreuzenden Kursen. Es besteht die Gefahr eines Zusammenstoßes. Wer ist ausweichpflichtig?

- Es muss das leewärtige Fahrzeug dem luvwärtigen Fahrzeug ausweichen.
- Es muss das luvwärtige Fahrzeug dem leewärtigen Fahrzeug ausweichen.
- Dasjenige Fahrzeug muss ausweichen, welches das Andere an seiner Backbordseite hat.
- Dasjenige Fahrzeug muss ausweichen, welches das Andere an seiner Steuerbordseite hat.

131 Was bedeutet dieses Sichtzeichen?



- Fahrzeug hat explosive Stoffe geladen, Abstand beim Stillliegen 100 m.
- Fahrzeug hat brennbare Stoffe geladen, Abstand beim Stillliegen 10 m.
- Fahrzeug hat gesundheitsschädliche Stoffe geladen, Abstand beim Stillliegen 50 m.
- Fahrzeug der Überwachungsbehörden im Einsatz.

- 32 **Wie kann mitgeholfen werden, die Lebensmöglichkeiten der Pflanzen- und Tierwelt in Gewässern und Feuchtgebieten zu bewahren und zu fördern?**
- Durch umweltbewusstes Verhalten und Beachtung der ?Zehn goldenen Regeln für das Verhalten von Wassersportlern in der Natur?.
 - Durch umweltbewusstes Verhalten und Beachtung der ?Zehn Grundregeln für den Wassersport?.
 - Durch vorausschauendes Fahren und Ausweichen entsprechend der Verkehrsvorschriften.
 - Durch umsichtiges Verhalten und Beachtung der Verkehrsvorschriften.
-

- 195 **Ein Kleinfahrzeug unter Segel kreuzt nachts im Fahrwasser. Von achtern kommt ein Fahrzeug auf das eine Zweifarbenlaterne und ein Topplicht führt. Was bedeuten diese Lichter?**
- Kleinfahrzeug mit Maschinenantrieb.
 - Kleinfahrzeug unter Segel.
 - Kleinfahrzeug ohne Maschinenantrieb.
 - Kleinfahrzeug unter Segel mit Maschinenantrieb.
-

- 118 **In welcher Reihenfolge fahren Fahrzeuge, die nicht Kleinfahrzeuge sind, und Kleinfahrzeuge, die gemeinsam geschleust werden sollen, in die Schleuse ein?**
- Kleinfahrzeuge fahren vor den Fahrzeugen, die nicht Kleinfahrzeuge sind und ohne Aufforderung durch die Schleusenaufsicht in die Schleuse ein.
 - Kleinfahrzeuge fahren vor den Fahrzeugen, die nicht Kleinfahrzeuge sind und vor Aufforderung durch die Schleusenaufsicht in die Schleuse ein.
 - Kleinfahrzeuge fahren nach den Fahrzeugen, die nicht Kleinfahrzeuge sind und ohne Aufforderung durch die Schleusenaufsicht in die Schleuse ein.
 - Kleinfahrzeuge fahren erst nach den Fahrzeugen, die nicht Kleinfahrzeuge sind und nach Aufforderung durch die Schleusenaufsicht in die Schleuse ein.
-

- 14 **Wie weichen zwei Motorboote aus, die sich auf entgegengesetzten Kursen nähern?**
- Jedes Fahrzeug muss seinen Kurs nach Backbord ändern.
 - Jedes Fahrzeug muss seinen Kurs nach Steuerbord ändern.
 - Es muss das leewärtige Fahrzeug dem luvwärtigen Fahrzeug ausweichen.
 - Es muss das luvwärtige Fahrzeug dem leewärtigen Fahrzeug ausweichen.
-

- 235 **Welche Stellen sind für die Zuteilung eines amtlich anerkannten Kennzeichens für Sportboote zuständig?**
- Der Deutsche Motoryachtverband, der Deutsche Segler-verband, der Allgemeine Deutsche Automobilclub.
 - Die Wasserstraßen-und Schifffahrtsämter.
 - Die Wasserschutzpolizei.
 - Amtsgerichte, bei denen ein Schiffsregister geführt wird.
-

- 234 **Woraus bestehen die amtlich anerkannten Kennzeichen?**
- Die europäische Schiffsnummer, gefolgt vom Kennbuchstaben für die ausstellende Organisation.
 - Nummer des Seeschiffsregisters, gefolgt vom Kennbuchstaben für die ausstellende Organisation.
 - Nummer des Binnenschiffsregisters, gefolgt vom Kennbuchstaben für die ausstellende Organisation.
 - Nummer des Internationalen Bootscheins, gefolgt vom Kennbuchstaben für die ausstellende Organisation.

5 **Wie lang ist die Dauer eines langen Tons (-)?**

Etwa 1 - 2 Sekunden.

Etwa 2 - 6 Sekunden.

Etwa 4 - 6 Sekunden.

Etwa 6 - 8 Sekunden.

Lösungsbogen für DLRG-Bootsführerschein A (Amtlicher Teil)

36

167

207

3

32

5

153

249

243

244

195

172

107

166

154

118

117

160

55

15

14

182

178

145

131

235

208

204

123

234